



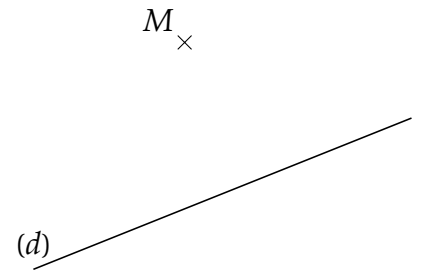
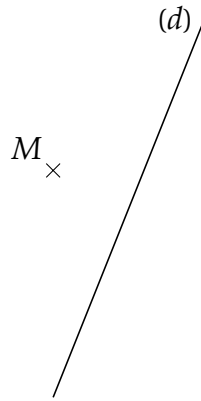
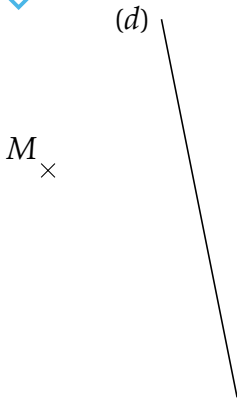
TRACER DES PARALLELES



coopmaths.fr/iep132

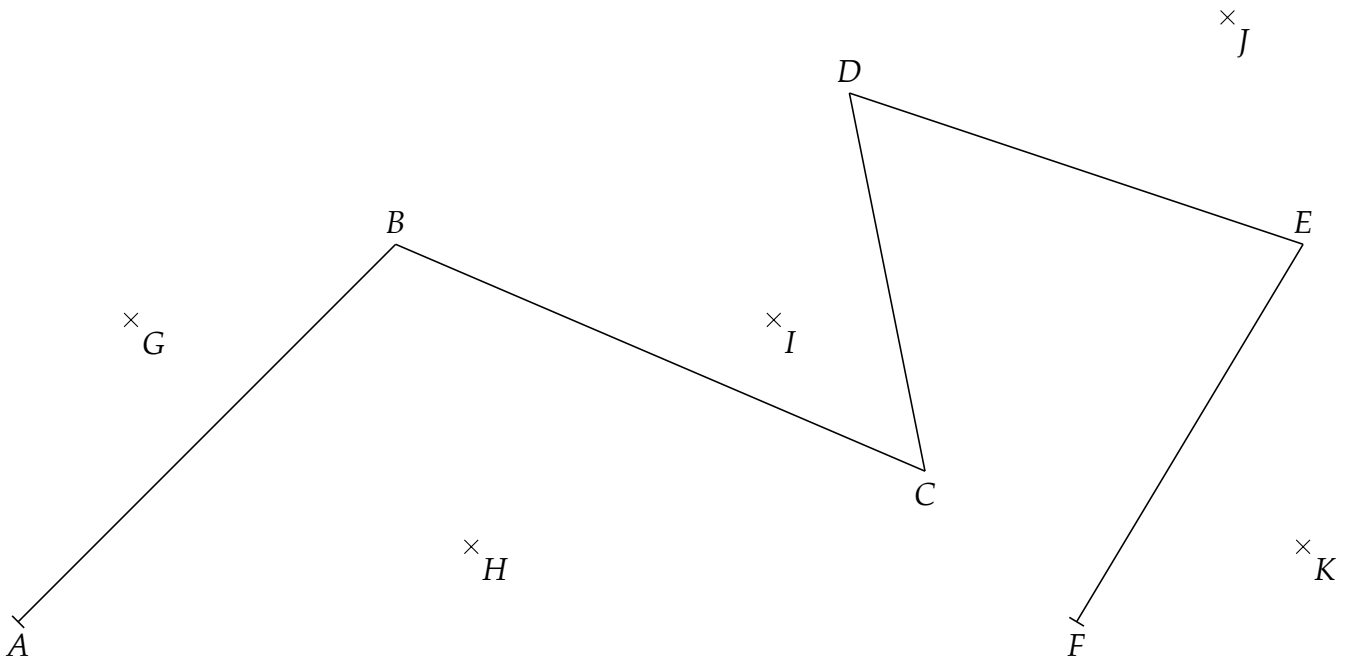
EX 1

Dans chaque cas, tracer la droite **parallèle** à la droite (d) qui passe par le point M .



EX 2

1. Tracer la droite parallèle à (AB) passant par G .
2. Tracer la droite parallèle à (BC) passant par H .
3. Tracer la droite parallèle à (CD) passant par I .
4. Tracer la droite parallèle à (DE) passant par J .
5. Tracer la droite parallèle à (EF) passant par K .

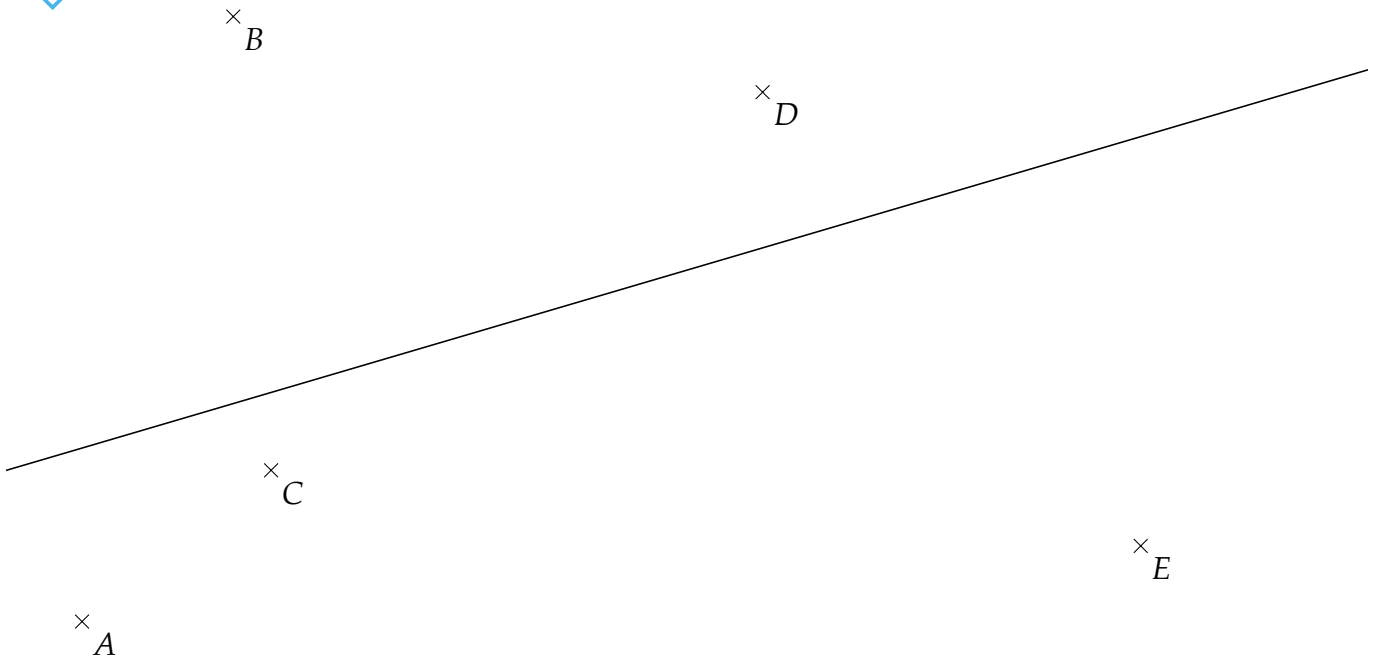




TRACER DES PARALLELES

EX 3

Tracer les droites parallèles à (d) passant par chacun des points.



EX 4

1. Tracer la droite (d_1) parallèle à (BC) passant par A .
2. Tracer la droite (d_2) parallèle à (AB) passant par C .
3. Tracer la droite (d_3) parallèle à (AC) passant par B .

