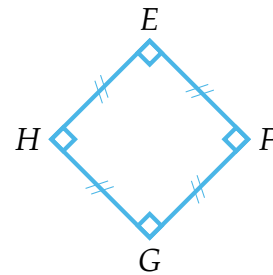
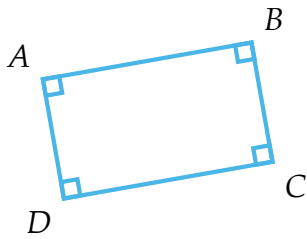




TRACER DES RECTANGLES ET DES CARRÉS DE LONGUEURS DONNÉES

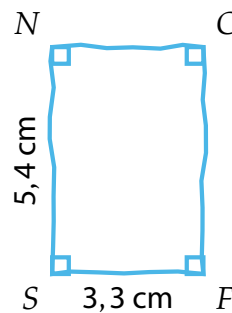
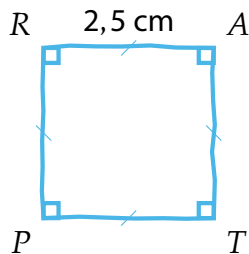
EX 1

Quelle est la nature de ces deux quadrilatères. Justifier.



EX 2

Construire les figures schématisées ci-dessous



EX 3

Construire les figures suivantes :

1. Un carré de côté 3,5 cm.
2. Un rectangle de longueur 4,6 cm et de largeur 3,6 cm.

EX 4

ALSE est un rectangle et GUEL est un carré. Construire en vraie grandeur la figure ci-dessous.

